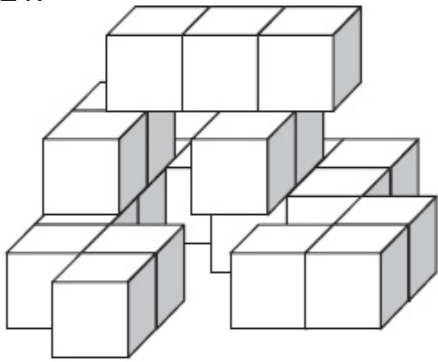


Teamname: _____

21.



Wieviel 3D-Würfel erkennst Du auf diesem Bild?

22.



Wie heißt die für ihre Glaskunst bekannte Insel bei Venedig?

23.



Zu welcher Hymne gehören diese Noten?

25.



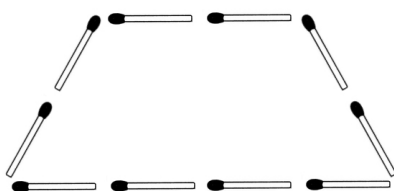
Wie heißt diese Oscarpreisträgerin? (Vor- und Zuname)

27.

Was ist das?

Ich kann vortrefflich malen und lasse fort kein Haar. Das Bild ist fertig schon im Augenblick, wer außer mir hat solch Geschick? Doch einen Fehler mach ich stets: Verwechsle links und rechts - wer errät's?

29.



Fügen Sie fünf Streichhölzer so hinzu, dass vier gleich große Trapeze entstehen. (auf die Rückseite zeichnen)

24.

7	+		+		+	10	=	40
+		+		+		+		
	+	8	+		+		=	28
+		+		+		+		
	+		+	3	+		=	25
+		+		+		+		
15	+		+		+	12	=	43
25		44		28		39		

Vervollständige die Rechnungen und löse das Zahlenrätsel.

26.



Auf welchem Berg im Tennengau befindet sich dieses Kreuz?

28.

Zwei Väter und zwei Söhne gingen miteinander auf Jagd. Sie schossen zusammen drei Hasen. Trotzdem brachte jeder von ihnen einen Hasen nach Hause. Wie ist das zu erklären?

30.




Wie schnell kann das Arabische Rennkamel laufen? (bitte ankreuzen)

- a) 45 km/h
- b) 64 km/h
- c) 83 km/h

Teamname: _____

71.



Wie heißt das gesuchte Wort?

72.



Wie nennen ItalienerInnen spiralförmige Nudeln? (drei Möglichkeiten)

73.



Um welches Kinderlied handelt es sich?

74.

Löse folgende Gleichungen und finde die Werte von x und y.

$x = \underline{\quad}$ $y = \underline{\quad}$

$$\begin{aligned} y &= x + 2 \\ y + 3x &= 6 \\ y &= -3x + 6 \end{aligned}$$

75.



Wie heißt diese Politikerin, die sich für die Rechte der Frauen eingesetzt hat? (Vor- und Zuname)

76.



Von welchem Haus in Hallein ist das die Eingangstür?

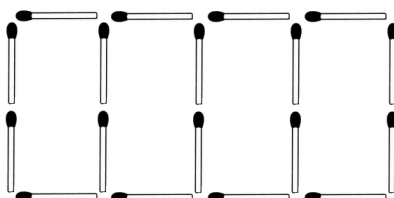
77.

Wie kann man die Zahl 666 um die Hälfte vergrößern, ohne sie durch eine Rechenoperation zu verändern?

78.

Georg hat ebenso viele Brüder wie Schwestern und jede Schwester hat halb so viele Schwestern wie Brüder. Wie viele Jungen und wie viele Mädchen gibt es in Georgs Familie?

79.



Lege zwei Streichhölzer so um, dass fünf Quadrate entstehen. (auf die Rückseite zeichnen)

80.

Welche der Insel ist bekannt für ihren Gewürzabbau? (bitte ankreuzen)

- a) Capri
- b) Menorca
- c) Sansibar